

Rikke Hollerup Bencke og Rikke Mølbak

Sia og Hugo

måler alt



MÅLING

NAVN:



Mængdemål – fest hos Bibi

Hvor mange dl har Tim drukket?

Vis regnestykket – sæt to streger under resultatet.




Hvor meget sodavand tror du, alle børn har drukket tilsammen?

Vis regnestykket – sæt to streger under resultatet.


Klokken – hvad er klokken?

Skriv, hvad klokken er på Tims ur.



Tim skal hjem kl. 16.17.

Vis det på uret.



Klokken – hvem er hurtigst?

Hvem er hurtigst til at cykle ruten?

Vis regnestykket – sæt to streger under resultatet.

Hvis Bibi har en starttid på 14.55 og skal være den hurtigste, hvad skal hendes sluttid så være?

Klokken – digital


Hvilket ur passer nr. 3 og nr. 4 med?



Hvis der går 2 timer og 20 min. fra kl. 13.36, hvad er klokken så?



Vis det på uret.



Længdemål – på cykeltur

Hvor mange km er rute D?

Vis regnestykket – sæt to streger under resultatet.

Hvis Tim højest kan cykle 26 km, hvor mange ruter kan han så cykle?

Vis regnestykket – sæt to streger under resultatet.

Længdemål – legehuset

Hvad er omkredsen på legehuset?



Vis regnestykket – sæt to streger under resultatet.

Hvis A-siden er 20 tern, og B-siden er 10 tern, hvad er omkredsen så?



Vis regnestykket – sæt to streger under resultatet.

Det kan jeg nu – måling

Mål:	Jeg er super god	Jeg kan godt	Jeg prøver lige igen
Jeg kan beskrive længde: mm, cm, m og km.			
Jeg kan beskrive vægt: g, kg, dl og L.			
Jeg kan beskrive tid: sekunder, minutter og timer.			