


Rikke Hollerup Bencke og Rikke Mølbak

Hugo og Tim

lægger tal sammen



PLUS


NAVN:



Klassen – hvem læser flest sider?

Hvor mange sider har Hugo læst? Sæt det ind i Hugos slange.

Vis regnestykket – sæt to streger under resultatet.



Lav selv en matematikhistorie med antal læste sider.

Klassen – Tims talleg

Tegn Sias tallinje. Forbind regnestykker til tallinjen.

$10+20$

$26+24$


$37+23$

$6+14$

$32+38$



Lav en tallinje, og skriv plusstykker til.



Det kan jeg nu – plus

Mål:	Jeg er super god	Jeg kan godt	Jeg prøver lige igen
Jeg kan lægge to tal sammen.			
Jeg kan lægge tre tal sammen.			
Jeg kan lægge fire tal sammen.			
Jeg kan lave plusstykker med tierovergang.			