

Rikke Hollerup Bencke og Rikke Mølbak

Hugo og Sia

leger med tal




TAL

NAVN:




Titalssystemet – på tur i Tivoli

Sæt Sias balloner i rækkefølge med det mindste tal først.



Lav en anden rækkefølge.



Titalssystemet – Tims slanger

Sæt Huks tal i rækkefølge.



Hvis Huk kun spiser tal med 2, hvordan er rækkefølgen så?



Titalssystemet – Hugos gåder

Løs gåde nr. 1.

2 - _____ - 6 - 8 - 10 - _____ - 14 - _____ - _____

Hvis tallene var 6-10-14, hvordan fortsætter rækken så?

6 - 10 - 14 - _____ - _____ - _____ - _____ - _____

Titalssystemet – mere og mindre

Hvilket tal ender de fire børn med at have hver især, når der står 10 i midten?

The grid is a 10x10 square. In the center, the number '10' is written. Four children are standing on the grid:

- Hugo** (top): A boy with brown hair wearing a red shirt, standing on the top row of the grid.
- Sia** (left): A girl with brown hair wearing a yellow shirt, standing on the second row from the top, second column from the left.
- Tim** (right): A boy with blonde hair wearing a brown shirt, standing on the second row from the top, eighth column from the left.
- Birte** (bottom): A girl with brown hair wearing a green shirt, standing on the bottom row of the grid.

Hvem af de fire børn vil altid have det højeste tal?

Vis regnestykket – sæt to streger under resultatet.

Titalssystemet – gave til mor

Hvilke penge skal Hugo betale med?

Sæt streger.

	1 kr.	2 kr.	5 kr.	10 kr.	20 kr.	50 kr.	100 kr.	500 kr.
Bibi			1	1	11	1	11	
Hugo								

Kan du finde en anden måde, Hugo kan betale på?

	1 kr.	2 kr.	5 kr.	10 kr.	20 kr.	50 kr.	100 kr.	500 kr.
Bibi			1	1	11	1	11	
Hugo								

Algebra – tabte tal

Hjælp Bibi med at skrive de tabte tal i en talslange.
Det mindste tal skal stå først.




Hvordan ser talslangen ud, hvis du skriver det største tal først?



Algebra – på række

Hjælp Hugo. Hvad skal der tegnes på de tomme pladser i række 1?




Hvordan ser rækken ud, hvis den begynder med *is lys lys ...*?

Tegn den nye række.


Regnestrategier – tæl penge

Hjælp Sia. Skriv tallet i talhuset.



Hvor mange penge har Sia, hvis hun får tre 10'ere og syv 1'ere mere?

Vis regnestykket – sæt to streger under resultatet.



Det kan jeg nu – tal

Mål:	Jeg er super god	Jeg kan godt	Jeg prøver lige igen
Jeg kender titalssystemet.			
Jeg kan beskrive antal og rækkefølge.			
Jeg kan finde 10'er-venner, 20'er-venner og 50'er-venner.			
Jeg kan bruge et talhus.			